



**ROTEIRO DE ATIVIDADES COMPLEMENTARES DE ESTUDO –
COVID 19 – 26º / 27º ROTEIRO
ESCOLA MUNICIPAL MARIA DO CARMO CAMPOS**

PROFESSORAS: MEIRE, SILVANA PERÍODO: SRM MATUTINO E

VESPERTINO

**COMPONENTES CURRICULARES: LÍNGUA PORTUGUESA, MATEMÁTICA E
PSICOMOTRICIDADE**

PERÍODO DE REALIZAÇÃO: 26º ROTEIRO - 30/08 A 03/09/2021

27º ROTEIRO - 08/09 A 10/09/2021

NOME DO ALUNO: _____

5ºANO

Senhores pais e responsáveis

Seu filho deverá realizar todas as atividades e colocá-las no saquinho ou envelope. Ele terá o período de 30 de AGOSTO a 10 de SETEMBRO para concluir essas atividades. Cuidem-se e cuidem de sua família. Em breve tudo estará bem.

Um abraço,
Professora

VÍDEO ÁUDIO PROFESSOR	OU DO Pelo watts no dia da aula.
O QUE VOCÊ VAI ESTUDAR:	<p>26ºROTEIRO</p> <ul style="list-style-type: none"> ➤ <u>Língua Portuguesa</u>: Leitura e interpretação da cantiga, rimas, caça palavras, separação de sílabas, formação de frases; ➤ <u>Matemática</u>: Interpretação de gráficos, situações problemas, operações; ➤ <u>Psicomotricidade</u>: Coordenação motora fina para pintar, recortar e montar o soldadinho articulado com barbante; <p>27º ROTEIRO</p> <ul style="list-style-type: none"> ➤ <u>Língua Portuguesa</u>: Leitura de texto informativo e interpretação, formação de palavras; rimas, substantivo próprio e comum; ➤ <u>Matemática</u>: Situação problema de adição e desenvolvimento do raciocínio lógico. <p><u>Psicomotricidade</u>: Pintura, recorte e colagem.</p>
PARA VAMOS ESTUDAR	QUE 26º ROTEIRO -Ler e interpretar a cantiga, identificar as rimas, encontrar as palavras, separar as sílabas e formar frases;



ESSES CONTEÚDOS?	<ul style="list-style-type: none">- Interpretar gráficos e resolver as situações problemas e as operações;- Desenvolver a coordenação motora fina ao pintar, recortar e montar o soldadinho articulado com barbante; <p>27º ROTEIRO</p> <ul style="list-style-type: none">- Ler, conhecer e interpretar o texto “Independência do Brasil”, formar palavras, reconhecer rimas, substantivos próprios e comuns;- Ler e resolver situação problema de divisão, atividade de raciocínio lógico;- Aprimorar a coordenação motora fina ao pintar, recortar e colar.
COMO VAMOS ESTUDAR OS CONTEÚDOS?	<ul style="list-style-type: none">- Selecione as atividades diárias conforme orientação da professora;- Faça a leitura das atividades selecionadas, em seguida desenvolva-as na mesma folha a qual ela está inserida.- Lembre-se de datar as páginas.
COMO VAMOS REGISTRAR O QUE APRENDEMOS?	<p>Organize seus estudos!!</p> <p>Vamos registrar nossos estudos através da leitura, interpretação, rimas, caça palavras, frases, separação de sílaba, gráficos, situação problema, operações, montagem do boneco articulado;</p> <p>Coloque a data em que irá realizar as atividades e coloque-as dentro do saquinho.</p>



26º ROTEIRO

LÍNGUA PORTUGUESA

MARCHA SOLDADO

MARCHA SOLDADO
CABEÇA DE PAPEL
SE NÃO MARCHAR DIREITO
VAI PRESO PRO QUARTEL

O QUARTEL PEGOU FOGO
A POLÍCIA DEU SINAL
ACORDA! ACORDA! ACORDA!
A BANDEIRA NACIONAL



DEPOIS DE LER O TEXTO, RESPONDA:

1- QUEM É O PERSONAGEM PRINCIPAL DA CANTIGA?

2- SE O SOLDADO NÃO MARCHAR DIREITO ELE FICARÁ PRESO EM QUAL LUGAR?



3- O QUE ACONTECEU NO QUARTEL?

4- QUANDO O QUARTEL PEGOU FOGO O QUE O SOLDADO TEVE QUE SALVAR?

5- VOLTE NO TEXTO E PINTE AS RIMAS.

6- VAMOS ACHAR NO CAÇA PALAVRAS ALGUMAS PALAVRAS DA CANTIGA, PINTANDO-AS

E	R	T	Y	U	I	O	P	Q	A
B	Z	M	A	R	C	H	A	C	D
O	Q	U	A	R	T	E	L	V	B
M	E	F	G	H	F	O	G	O	J
B	K	L	Ç	Z	X	C	S	V	B
E	P	N	M	W	S	D	O	F	N
I	A	A	S	F	G	D	L	E	A
R	P	I	U	A	C	O	D	E	C
O	E	W	A	B	F	V	A	Y	I
B	L	N	C	A	X	M	D	A	O
W	Q	R	I	N	O	P	O	A	N
S	D	F	T	D	H	J	Y	M	A
Q	C	A	B	E	Ç	A	J	Y	L
A	D	K	E	I	A	F	B	E	I
X	C	H	L	R	O	Ç	P	O	U
Z	V	B	N	A	X	C	V	F	G

MARCHA – SOLDADO – CABEÇA – PAPEL - QUARTEL – FOGO - ACODE – BANDEIRA – NACIONAL – BOMBEIRO



7- SEPARE AS PALAVRAS ABAIXO EM SÍLABAS

MARCHA - _____

SOLDADO - _____

CABEÇA - _____

PAPEL - _____

QUARTEL - _____


BOMBEIRO - _____

BANDEIRA - _____

NACIONAL - _____

8- VAMOS COLORIR O QUEBRA CABEÇA

- Colorir, recortar e depois montar.



MONTE AQUI O SEU QUEBRA CABEÇA E ESCREVA UMA FRASE COM A PALAVRA SOLDADO

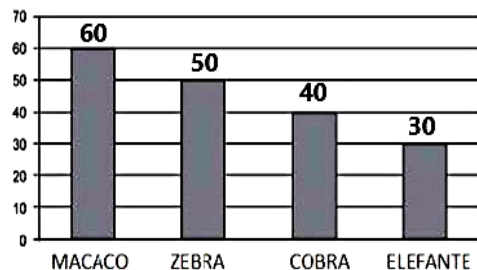


MATEMÁTICA

TRABALHANDO COM GRÁFICOS



Animais mais visitados no zoo



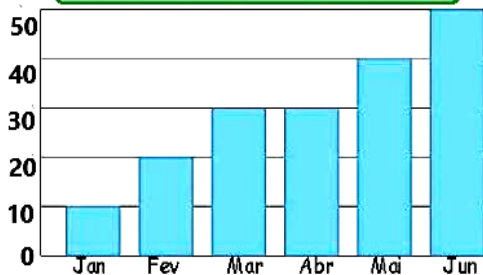
Visitaram o elefante _____ pessoas.

O animal que recebeu o dobro das suas visitas foi _____

No dia seguinte o zoo recebeu a metade de visitas, ou seja, _____ visitas



Venda de Pizzas



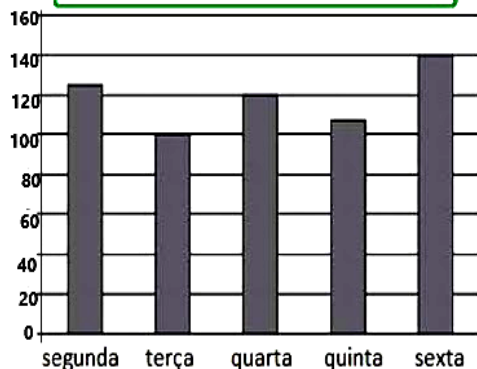
Em março foram vendidas _____ pizzas.

Quantas pizzas foram vendidas no primeiro bimestre? _____

Se em abril venderem o dobro de janeiro, quantas venderão? _____



Carros no estacionamento



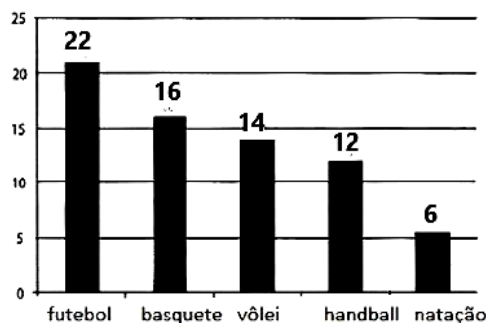
Em que dia pararam 140 carros no estacionamento? _____

Em que dias pararam menos de 120 carros no estacionamento? _____

Qual a diferença de carros entre o dia mais cheio e o mais vazio? _____



Atividades preferidas do 5º ano



Quantos alunos participaram da votação? _____

Que atividade teve a metade dos votos do handball? _____

Quantos votos o futebol teve a mais que o segundo colocado? _____



SITUAÇÕES PROBLEMAS

Resolvendo Problemas

1. Marcela ganhou um livro de histórias Já leu 187 páginas desse livro e ainda faltam 218. Quantas páginas tem o livro?

2. Uma pequena cidade possui 3287 habitantes. Em um ano o número de habitantes aumentou para 7654. Quantos novos habitantes a cidade ganhou.



3. Calcule o resultado das operações no caderno.

a) $4379 + 3657$

b) $6543 + 3655$

c) $5644 - 975$

d) $4567 - 2765$

e) 453×3

f) 376×4

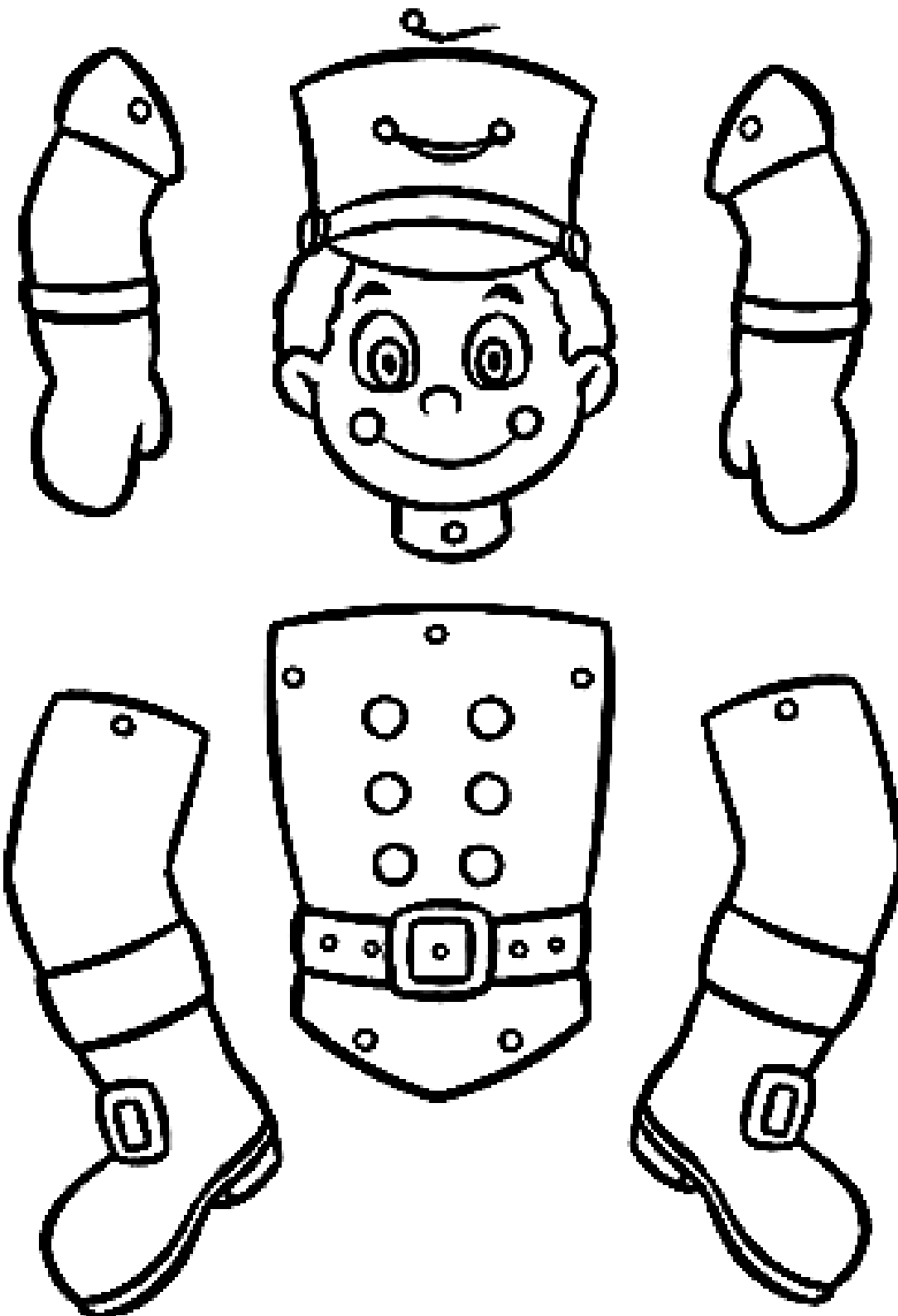
g) $96 : 3$

h) $154 : 2$



PSICOMOTRICIDADE

VAMOS MONTAR UM SOLDADINHO ARTICULADO. PINTE O DESENHO, RECORTE E MONTE COM UM PEDAÇO BARBANTE:



**27º ROTEIRO
LÍNGUA PORTUGUESA**

VAMOS LER O TEXTO ABAIXO:

Independência do Brasil

A Independência do Brasil é um dos fatos históricos mais importantes de nosso país, pois marca o fim do domínio português e a conquista da autonomia política.

Muitas tentativas anteriores ocorreram e muitas pessoas morreram na luta por este ideal. Podemos citar o caso mais conhecido: Tiradentes. Foi executado pela coroa portuguesa por defender a liberdade de nosso país, durante o processo da Inconfidência Mineira.



<http://www.suapesquisa.com/independencia/>

1. O texto acima tem a finalidade de:

- () Divertir o leitor () Informar o leitor
() Dar uma notícia () Transmitir um ensinamento

2. No trecho "....pois marca o fim do domínio português."
A qual país se refere a palavra português?

- () Ao Brasil () A Portugal () Ao Paraguai

3. A expressão "autonomia política" significa que:

- () O Brasil se tornara um país independente.
() O Brasil continuaria obedecendo ordens vindas de Portugal.
() O Brasil teria um novo presidente.

4. Pra você o que significa a palavra " Liberdade".



Independência do Brasil

Pesquise sobre nossa pátria e responda às perguntas.

a) Qual o nome da sua pátria?

b) Em que dia é comemorada a Independência do Brasil?

c) Onde e quando ocorreu a Independência do Brasil?


d) Quem deu o grito da Independência? Por quê?

e) Anote a frase que marcou a Independência?

f) Cole uma gravura referente à Independência?

Dia **7 de setembro** é comemorado a **INDEPENDÊNCIA DO BRASIL**.

1- Estes são duas estrofes do Hino da Independência.



Já podeis, da Pátria filhos,
Ver contente a mãe gentil;
Já raiou a liberdade
No horizonte do Brasil.

Brava gente brasileira!
Longe vá... temor servil:
Ou ficar a pátria livre
Ou morrer pelo Brasil.

Trecho do Hino da Independência

a) Nas estrofes acima aparecem duas palavras que rimam com **Brasil**, copie-as:

b) Pinte de verde o substantivo próprio que nomeia o nosso país e escreva –o:

c) Copie das estrofes acima três substantivos comuns:

2- complete o quadro abaixo retirando palavras das estrofes:

Palavras com quatro sílabas.	Palavras com três sílabas	Palavras com duas sílabas	Palavra que tem s com som de z

3- Quantos versos tem cada estrofe neste trecho do hino ? _____

4-Copie o primeiro verso do segundo estrofe:

5-Pinte de amarelo no segundo verso da primeira estrofe a palavra sinônima de alegre/feliz.



FAÇA UM ACRÓSTICO COM A PALAVRA BRASIL

B	
R	
A	
S	
I	
L	

MATEMÁTICA

DESAFIO:

ALISON COMPROU UM SOFÁ NO VALOR DE 1.050 REAIS. ELE DIVIDIU SUA COMPRA EM 5 PARCELAS IGUAIS. QUANTOS REAIS ELE PAGARÁ EM CADA PARCELA?

DESAFIO



RUI

PEDRO

ARI

JÚLIO RAFAEL

Cinco amigos colecionam figurinhas.

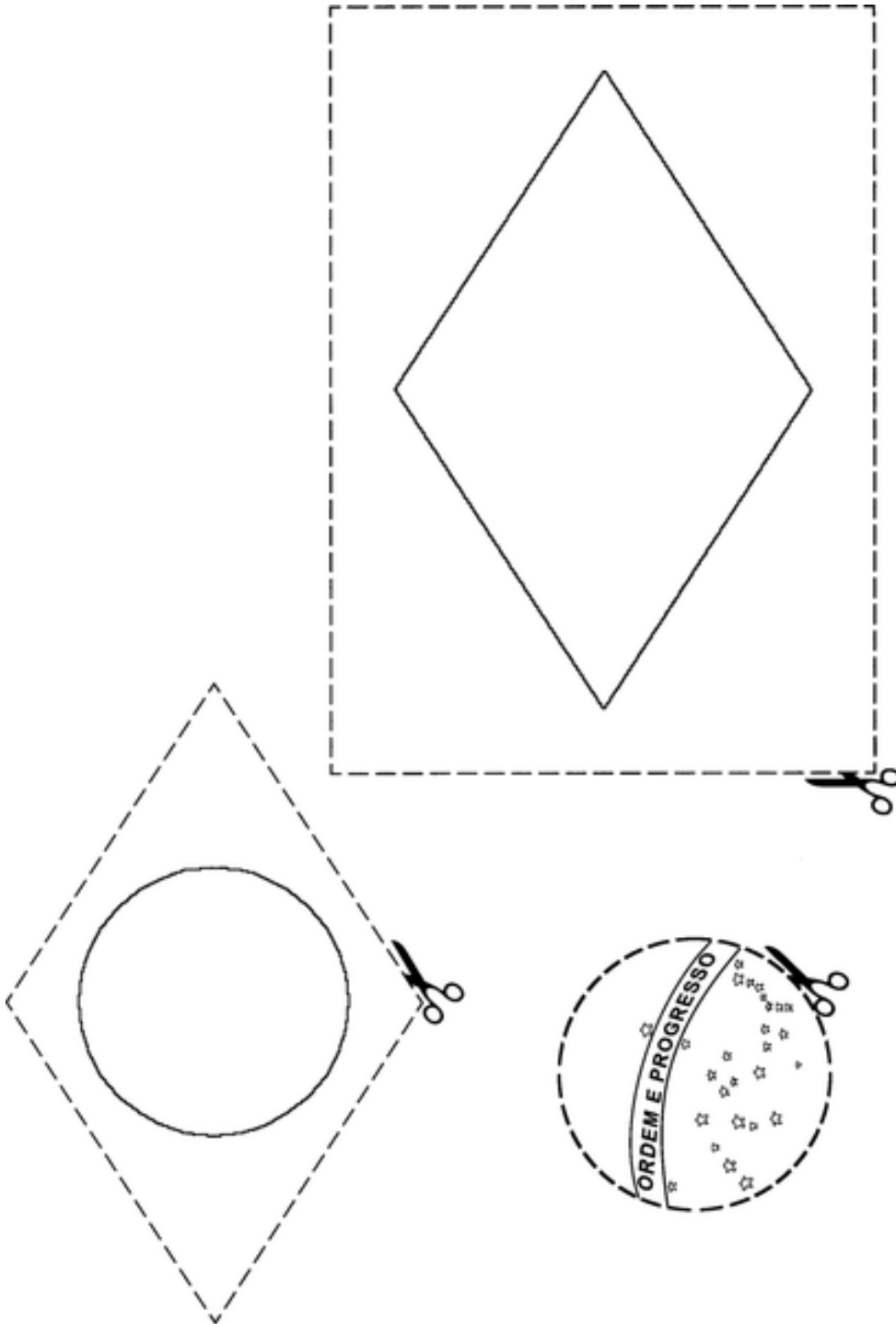
Descubra o número de figurinhas que cada um possui.

- Rui tem o dobro de figurinhas de Ari mais 8.**
- Pedro tem o dobro das figurinhas de Júlio.**
- Rafael tem as figurinhas de Rui, menos as de Ari.**
- Júlio possui duas dúzias de figurinhas.**
- Ari tem o número de figurinhas de Pedro menos 17.**



PSICOMOTRICIDADE

VAMOS MONTAR A BANDEIRA DO BRASIL!!



: